

Bauplan 1

	1	2	3
	1	2	3

Stell dir das Gebäude zu diesem Bauplan vor.

Zeichne die passenden Schatten - Karten.

Wie viele Würfel braucht man?

Wie viele Würfel kann man weglassen, damit der Schatten gleich bleibt?

Wie viele Würfel kann man noch verstecken?

Schatten - Karte für die Schatten - Box

Seitenriss

Schatten - Karte für die Schatten - Box

Aufriss

Baulplan 2

	3	2	1
	1	3	2

Stell dir das Gebäude zu diesem Baulplan vor.

Zeichne die passenden Schatten - Karten.

Wie viele Würfel braucht man?

Wie viele Würfel kann man weglassen, damit der Schatten gleich bleibt?

Wie viele Würfel kann man noch verstecken?

Schatten - Karte für die Schatten - Box

Seitenriss

Schatten - Karte für die Schatten - Box

Aufriss

Bauplan 3

	2	2	2
	2	3	3
	2	3	3

Stell dir das Gebäude zu diesem Bauplan vor.

Zeichne die passenden Schatten - Karten.

Wie viele Würfel braucht man?

Wie viele Würfel kann man weglassen, damit der Schatten gleich bleibt?

Wie viele Würfel kann man noch verstecken?

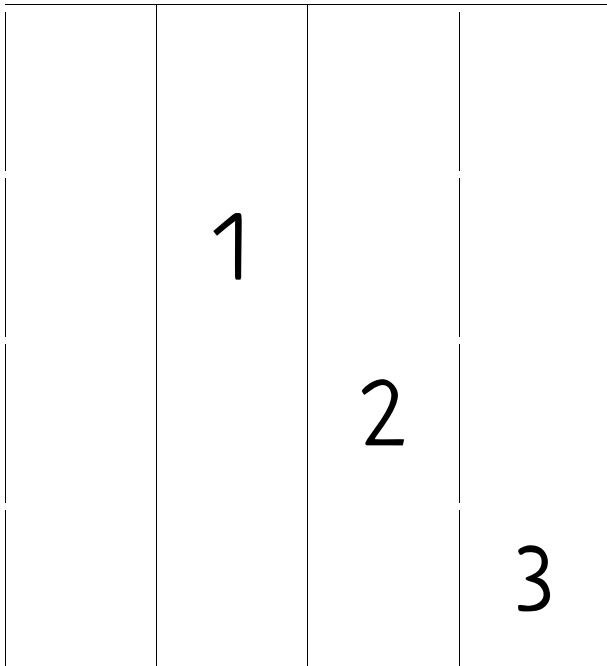
Schatten - Karte für die Schatten - Box

Seitenriss

Schatten - Karte für die Schatten - Box

Aufriss

Baulplan 4



Stell dir das Gebäude zu diesem Baulplan vor.

Zeichne die passenden Schatten - Karten.


Wie viele Würfel braucht man?

Wie viele Würfel kann man weglassen, damit der Schatten gleich bleibt?

Wie viele Würfel kann man noch verstecken?


Schatten - Karte für die Schatten - Box

Seitenriss



Schatten - Karte für die Schatten - Box

Aufriss



Bauplan 5

	3	2	3
	2	1	2
	3	2	3

Stell dir das Gebäude zu diesem Bauplan vor.

Zeichne die passenden Schatten - Karten.

Wie viele Würfel braucht man?

Wie viele Würfel kann man weglassen, damit der Schatten gleich bleibt?

Wie viele Würfel kann man noch verstecken?

Schatten - Karte für die Schatten - Box

Seitenriss

Schatten - Karte für die Schatten - Box

Aufriss

Mein Bauplan

--	--	--	--

Schatten - Karte für die Schatten - Box

Seitenriss

Schatten - Karte für die Schatten - Box

Aufriss
